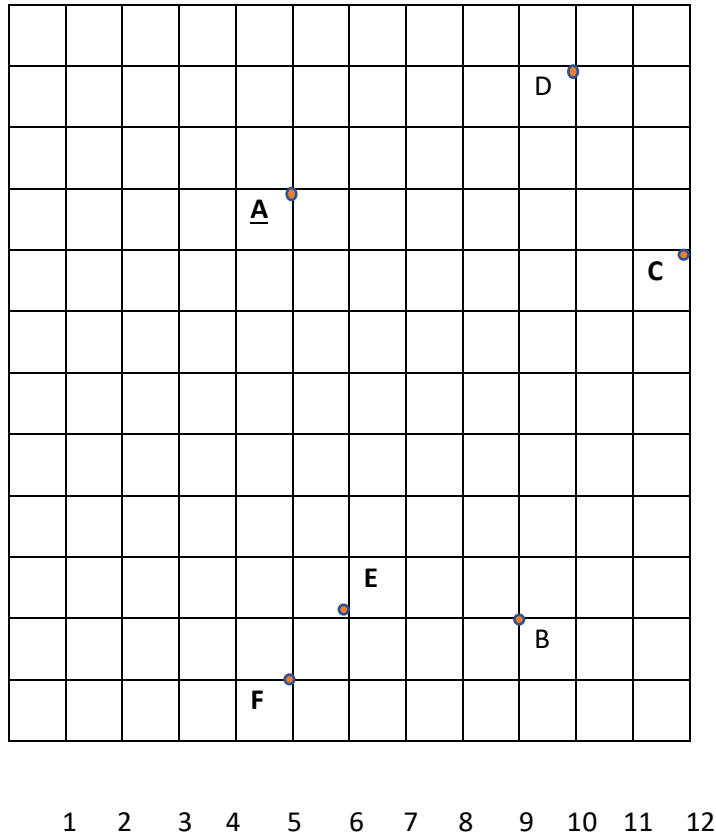


LUNES 8 DE JUNIO

**CORRECCIÓN**

Ejercicio 1-



Ejercicio 2-

$(1, 2)$  ;  $(2, 4)$  ;  $(4, 5)$  ;  $(6, 4)$  ;  $(5, 2)$  ;  $(3, 1)$

**TRABAJO**

Recuerda, leyendo el recuadro de la página 174, el concepto de simetría.


Página 174, ejercicios 1, 2 y primera parte del 3. Al hacerle, comprueba que la distancia de cada punto al eje de simetría es la misma.

MARTES 9 DE JUNIO

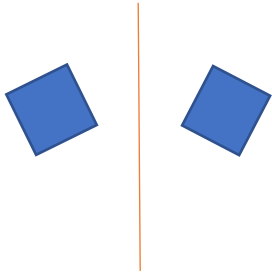
**CORRECCIÓN**

1-El B y el C porque al doblar por el eje de simetría las dos figuras coinciden.

2-



3-



**TRABAJO**

Página 178, ejercicios 1, 3 y 4.

**MIÉRCOLES 10 DE JUNIO**

**CORRECCIÓN**

1-a) La farmacia se encuentra en el (C,7)

b) El museo en (E,5) .

c) La vía del tren atraviesa las casillas (D, 1), (E, 1),(F,2), (G,2) y (H,2)

3-Sale un triángulo.

4-El triángulo, en el (2,2); el cuadrado, en el (4,6); el rectángulo, en el (5,3); y el círculo en el (6,1)

**TRABAJO**

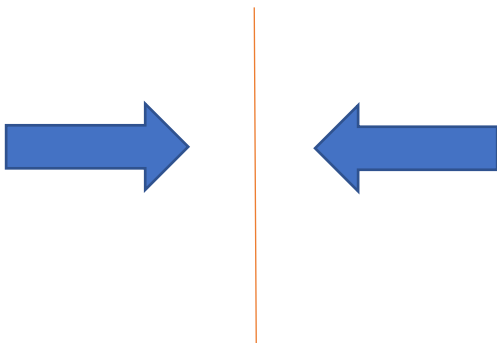
Página 179, ejercicio 5.

Cálculo mental página 173.

**VIERNES 12 JUNIO**

**CORRECCIÓN**

5-



Cálculo mental:

20      6      12      16      24

30      35      40      45      50

**TRABAJO**

Haz la ficha de la unidad 13 y házmela llegar cuando puedas.